




一年( )班( )號 姓名( )

一、選出正確的答案(選擇題)：  
每格 2 分

- (2) 50 元最多可以買幾個 20 元的麵包？  
① 1 個 ② 2 個 ③ 3 個。
- (3) 撲滿裡有 38 元，再存入 51 元，撲滿裡就有幾元？  
① 86 元 ② 88 元 ③ 89 元。
- (1) 一個○代表一隻，數量最多的動物是什麼？

動物			
畫記	○○○○ ○○○○	○○○○ ○○○○	○○○○ ○

①  ②  ③ 

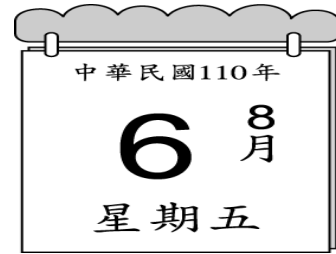
- (3) 1 個  可以換幾個 ？  
① 2 個 ② 5 個 ③ 10 個。
- (1) 小展有 39 張貼紙，送給妹妹 9 張後，還剩下幾張？  
① 30 張 ② 26 張 ③ 28 張。
- (1) 9 月 18 日是星期幾？

民國 110 年 9 月 2021						
日	一	二	三	四	五	六
			1	2	3	4
5	6	7	8	9	10	11
12	13	14	15	16	17	18
19	20	21	22	23	24	25
26	27	28	29	30		

① 星期六 ② 星期一 ③ 星期五

- (2) 家宜想買一包 75 元的彈力球，他有                     ，他最少還要補多少個  才夠？  
① 1 個 ② 2 個 ③ 3 個。

- (3) 下面日曆是星期幾？












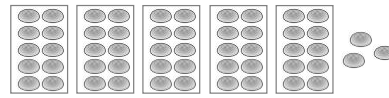


① 星期六 ② 星期一 ③ 星期五

- (2) 10 個  可以換幾個 ？  
① 8 個 ② 2 個 ③ 5 個。

- (3) 今天 7 月 13 日，明天是 7 月幾日？  
① 11 日 ② 12 日 ③ 14 日。

二、填填看看：每答 2 分

- 有 10 個 ，共有 ( 50 ) 元。
- 奶奶用下面錢買了 1 個便當，她付了 ( 75 ) 元。  
   
- 一個  可以換 2 個代幣玩遊戲，1 個 ，可以換到 ( 10 ) 個代幣。
- 1 個  可以換 ( 5 ) 個 ，也可以換 ( 50 ) 個 。
- 買一瓶 5 元的牛奶和 32 元的餅乾，一共要付 ( 37 ) 元。
- 我有 100 元，我可以買 ( 10 ) 個 10 元的橡皮擦。
-    
 $9 + 53 = ( 62 )$   
共有 ( 62 ) 個



8. 這是「某年2月」的天氣紀錄表，  
用「正」畫記，完成紀錄表，並  
回答問題。

日	一	二	三	四	五	六
	1	2	3	4	5	6
7	8	9	10	11	12	13
14	15	16	17	18	19	20
21	22	23	24	25	26	27
28	29					

(1)

天氣	畫記	數量(天)
	正正下	13
	正正	9
	正下	7

(2) 由「天氣紀錄表」中可以發現，  
比 多 ( 4 ) 天。

(3) 天氣紀錄表中，共可以發現  
( 3 ) 種天氣。

9. 看「月曆」回答問題。

民國 110 年 11 月 2021

日	一	二	三	四	五	六
	1	2	3	4	5	6
7	8	9	10	11	12	13
14	15	16	17	18	19	20
21	22	23	24	25	26	27
28	29	30				

(1) 這是 ( 11 ) 月的月曆。

共有 ( 4 ) 個星期日。

共有 ( 4 ) 個星期六。

(2) 這個月的第一天是 ( 11 ) 月  
( 1 ) 日，星期 ( 一 )，最後  
一天是 ( 11 ) 月 ( 30 ) 日，星期  
( 二 )。

(3) 在月曆上圈出 11 月 13 日。

10. 票選班長時，投票結果如下：

小花	正下
小天	正下
小白	正正

(1) 得票數最多的人是 ( 小白 )。

(2) 得票數最少的人是 ( 小花 )。

(3) 共有 ( 25 ) 人投票。

三、先畫出⑩和①，再用算式記下來  
每題 4 分

1. 冰箱裡有 32 瓶汽水，有 15 瓶鮮

奶，汽水比鮮奶多幾瓶？

算式：  $32 - 15 = 17$

多 ( 17 ) 瓶

2. 已經看了 16 頁的書，再看 7 頁，

現在共看了多少頁？

算式：  $16 + 7 = 23$

有 ( 23 ) 個

四、用算式記下來：每題 4 分

1. 媽媽買了 38 個橘子，送給阿姨 11

個，媽媽還有幾個橘子？

$38 - 11 = 27$

( 27 ) 個

2. 我七月看了 12 本書，八月看了 17 本

書，兩個月共看了幾本書？

$12 + 17 = 29$

( 29 ) 本

3. 一本簿子要 24 元，買 2 本要付多

少元？

$24 + 24 = 48$

( 48 ) 元