

三年()班()號 姓名()

一、是非題：30 分

- (X) 1. 所有的動物都有羽毛和翅膀。
- (O) 2. 狗和貓的身體部位相似，都可以分成頭、軀幹和四肢等。
- (O) 3. 蜘蛛和蜻蜓都有腳，但腳的數量不同。
- (O) 4. 擅長跳躍的動物，通常後腳都比前腳粗壯、有力。
- (O) 5. 企鵝和青蛙都擅長游泳，是因為牠們的腳上都有蹼。
- (X) 6. 只要動物的身上有翅膀就一定都能飛上天空。
- (X) 7. 依據「會不會游泳」來做分類時，分在「會游泳」那組的動物一定沒有腳。
- (O) 8. 家裡牆壁上的吸盤和章魚的身體構造相似。
- (O) 9. 用「會不會飛」來分類，兔子、麻雀、蝴蝶可以分成二組。
- (X) 10 我們可以利用氣溫計來測量天空中雲量的多或少。
- (X) 11 陰天的天空看起來比晴天的還要亮。
- (X) 12 天氣預報明天的天氣狀況是雨天，明天就一定會下雨。
- (O) 13 同一個地區，不論是天氣狀況、氣溫或降雨機率，每天都會不太相同。
- (X) 14 颱風來襲時不會為臺灣帶來強風豪雨。
- (O) 15 氣象預報可能有豪雨時，民眾應該提前做好防範措施。

二、選擇題：30 分





- (④) 1. 白鷺鷥的身體部位不包含下面哪一個？
①頭 ②翅膀 ③軀幹 ④腹足。
- (②) 2. 在校園中，我們比較容易看到哪一種動物？ ①大象 ②蜜蜂 ③小白鯨 ④駱駝。
- (③) 3. 下面哪一種動物無法在高空中飛行？
①白鷺鷥 ②麻雀 ③鴨子 ④老鷹。
- (③) 4. 下面哪一種動物沒有粗壯、有力的後腳？
①兔子 ②袋鼠 ③老鼠 ④青蛙。
- (③) 5. 潛水員腳上穿的蛙鞋，可能是人類模仿哪一種動物的腳所發明的？ ①兔子 ②

狗 ③青蛙 ④雞。

- (②) 6. 人類發明的雷達，可能是觀察哪一種動物的特徵而來的？ ①青蛙 ②蝙蝠 ③兔子 ④貓頭鷹。
- (③) 7. 陰天時，我們看到的雲通常是什麼樣子？
①一朵一朵的 ②一絲一絲的 ③一大片遮住陽光 ④亮亮的。
- (①) 8. 想要測量氣溫，下面哪一個地點比較適合？ ①通風的走廊 ②密閉的教室 ③陽光直射的操場 ④開冷氣的視聽教室。
- (②) 9. 一天之中，如果沒有其他天氣變化，下面哪一個時間所測量出的氣溫最高？ ①早上 7 點 ②下午 1~2 點 ③傍晚 5 點 ④晚上 9~10 點。
- (④) 10. 從下面哪一種氣象預報中可以查詢到風力和海浪的大小？ ①一週天氣預報 ②旅遊天氣預報 ③國際都市天氣預報 ④漁業氣象預報。
- (②) 11. 阿華全家打算到日月潭渡假，他們查詢氣象資訊時，應該參考哪一種氣象預報？ ①一週天氣預報 ②旅遊天氣預報 ③國際都市天氣預報 ④漁業氣象預報。
- (③) 12. 氣象預報明天的降雨機率是 80% 時，外出時應該要 ①戴帽子 ②穿長袖外套 ③帶雨具 ④塗防晒油。
- (③) 13. 下面哪一種特殊的天氣狀況會使水庫缺水？ ①豪雨 ②焚風 ③乾旱 ④寒流。
- (②) 14. 下面哪一個是颱風帶來的好的影響？
①招牌被吹落 ②補充水庫水量 ③土石流 ④路樹被吹斷。
- (①) 15. 颱風即將來襲時，下面哪一個因應措施是不正確的？ ①不理會 ②修剪樹木 ③疏通水溝 ④固定招牌。




三、 做做看：40 分

1. 下面哪些動物的身體依照外型特徵可以分為頭、軀幹和四肢？正確的請打√，錯誤的打×。

① 鴿子	X	② 熊	√
			
③ 牛	√	④ 鯉魚	X
			

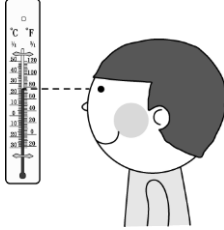
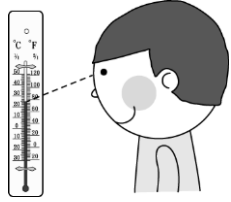
2. 下面動物在運動時，主要運用身體的什麼部位？填入代號。

ㄅ 腳 ㄆ 腹足 ㄇ 鰭 ㄋ 翅膀



① 海鷗飛行	ㄋ	② 蜥蜴爬行	ㄅ
			
③ 蝸牛爬行	ㄆ	④ 小狗奔跑	ㄅ
			
⑤ 蝴蝶飛行	ㄋ	⑥ 金魚游泳	ㄇ
			

3. 下面小朋友使用氣溫計的方法是正確的請打√，錯誤的打×。

(1)




ㄅ 視線平視液柱的頂端	√	ㄆ 由上往下看	×
			

(2)

ㄅ 手握住下方球狀液囊，並靠得很近	×	ㄆ 手持上方，不要靠得太近	√
			

4. 根據下面的天氣資料，選擇一種最適合的穿戴物品，並填入代號。

ㄅ 雨衣 ㄆ 太陽眼鏡 ㄇ 外套



- (1) 氣溫 15~20℃、降雨機率 10%：(ㄇ)。
- (2) 氣溫 31~35℃、降雨機率 0%：(ㄆ)。
- (3) 氣溫 26~30℃、降雨機率 100%：(ㄅ)。

5. 颱風來襲前，我們可以做哪些防範措施？正確的請打√，錯誤的打×。

(√) (1) 修剪樹木。

(√) (2) 固定招牌。

(×) (3) 到海邊釣魚儲備糧食。

寫完要檢查！