





一年()班()號 姓名()

一、選出正確的答案(選擇題)：
每格 2 分

- () 50 元最多可以買幾個 20 元的麵包？
① 1 個 ② 2 個 ③ 3 個。
- () 撲滿裡有 38 元，再存入 51 元，撲滿裡就有幾元？
① 86 元 ② 88 元 ③ 89 元。
- () 一個○代表一隻，數量最多的動物是什麼？

動物			
畫記	○○○○ ○○○○	○○○○ ○○○○	○○○○ ○

①  ②  ③ 

- () 1 個  可以換幾個 ？
① 2 個 ② 5 個 ③ 10 個。
- () 小展有 39 張貼紙，送給妹妹 9 張後，還剩下幾張？
① 30 張 ② 26 張 ③ 28 張。
- () 9 月 18 日是星期幾？

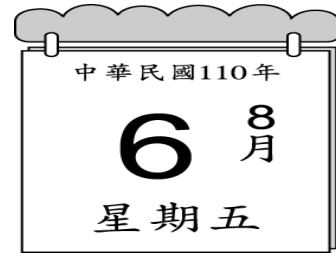
民國 110 年 9 月 2021

日	一	二	三	四	五	六
			1	2	3	4
5	6	7	8	9	10	11
12	13	14	15	16	17	18
19	20	21	22	23	24	25
26	27	28	29	30		

① 星期六 ② 星期一 ③ 星期五

- () 家宜想買一包 75 元的彈力球，她有                 ，他最少還要補多少個  才夠？
① 1 個 ② 2 個 ③ 3 個。

- () 下面日曆是星期幾？



① 星期六 ② 星期一 ③ 星期五


- () 10 個  可以換幾個 ？

① 8 個 ② 2 個 ③ 5 個。



- () 今天 7 月 13 日，明天是 7 月幾日？

① 11 日 ② 12 日 ③ 14 日。




二、填填看看：每答 2 分

- 有 10 個 ，共有 () 元？
- 奶奶用下面錢買了一個便當，她付了 () 元。



- 一個  可以換 2 個代幣玩遊戲，1 個 ，可以換到 ()


個代幣。

- 1 個  可以換 () 個 ，也還可以換 () 個 。

- 買一瓶 5 元的牛奶和一包 32 元的餅乾，一共要付 () 元。

- 我有 100 元，我可以買 () 個 10 元的橡皮擦。

7.






$$9 + 53 = ()$$



共有 () 個

8. 這是「某年2月」的天氣紀錄表，用「正」畫記，完成紀錄表，並回答問題。

日	一	二	三	四	五	六
	1	2	3	4	5	6
7	8	9	10	11	12	13
14	15	16	17	18	19	20
21	22	23	24	25	26	27
28	29					

(1)

天氣	畫記	數量(天)
		
		
		

(2) 由天氣紀錄表中可以發現， 比  多 () 天。

(3) 天氣紀錄表中共可以發現 () 種天氣。

9. 看月曆回答問題。

民國 110 年 11 月 2021						
日	一	二	三	四	五	六
	1	2	3	4	5	6
7	8	9	10	11	12	13
14	15	16	17	18	19	20
21	22	23	24	25	26	27
28	29	30				

(1) 這是 () 月的月曆。

共有 () 個星期日。

共有 () 個星期六。

(2) 這個月的第一天是 () 月 () 日，星期 ()，最後一天是 () 月 () 日，星期 ()。

(3) 在月曆上圈出 11 月 13 日。

10. 票選班長時，投票結果如下：

小花	正
小天	正下
小白	正正

(1) 得票數最多的人是 ()。

(2) 得票數最少的人是 ()。

(3) 共有 () 人投票。

三、先畫出⑩和①，再用算式記下來，每題 4 分

1. 冰箱裡有 32 瓶汽水，有 15 瓶鮮奶，汽水比鮮奶多幾瓶？

算式：多 () 瓶

2. 已經看了 16 頁的書，再看 7 頁，現在共看了多少頁？

算式：有 () 個人

四、用算式記下來，每題 4 分

1. 媽媽買了 38 個橘子，送給阿姨 11 個，媽媽還剩幾個橘子？

() 個

2. 我七月看了 12 本書，八月看了 17 本書，兩個月共看了幾本書？

() 本

3. 一本簿子要 24 元，買 2 本要付多少元？

() 元